

TESTY SPRAWDZAJĄCE WIADOMOŚCI I UMIEJĘTNOŚCI
UCZNIÓW KLASY TRZECIEJ

Edukacja polonistyczna

CZĘŚĆ I

- 1) Zaznacz grupę wyrazów, które są rzeczownikami :
 - a) dom, ulica, Zosia
 - b) ładna, szeroki, grube
 - c) idzie, szuka, liczą

- 2) Przymiotnik rodzaju męskiego to :
 - a) kolorowe
 - b) duży
 - c) piękna

- 3) Wskaż czasownik w czasie przeszłym :
 - a) maluję
 - b) malowałam
 - c) będę malowała

- 4) Przymiotnik w stopniu najwyższym to :
 - a) najładniejszy
 - b) ładny
 - c) ładniejszy

- 5) Wyraz „*piszesz*” to czasownik w osobie :
 - a) pierwszej
 - b) drugiej
 - c) trzeciej

- 6) Zaznacz wyrażenie, które nie jest zdaniem :
 - a) Idziemy do szkoły.
 - b) Malowanie obrazu.
 - c) Jestem uczniem trzeciej klasy.

- 7) „*Dobry*” to wyraz przeciwny do wyrazu :
 - a) miły
 - b) życzliwy
 - c) zły

- 8) „*Gdzie mieszka twoja babcia ?*” – to zdanie :
 - a) pytające
 - b) oznajmujące
 - c) rozkazujące

- 9) Zaznacz rodzinę wyrazów do wyrazu „*dom*” :
 - a) budynek, gmach, pałac
 - b) domostwo, domowa, domek
 - c) w domu, domy, w domach

- 10) W której grupie wyrazy uporządkowane są według alfabetu :
- a) jabłko, gruszka, banan, arbuz, wiśnia , cytryna
 - b) arbuz, cytryna, wiśnia, banan, gruszka, jabłko
 - c) arbuz, banan, cytryna, gruszka, jabłko, wiśnia

CZEŚĆ II

Wpisz w puste miejsca po jednym wyrazie :

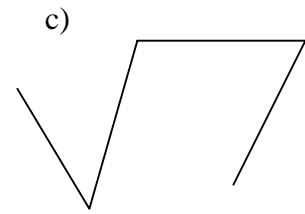

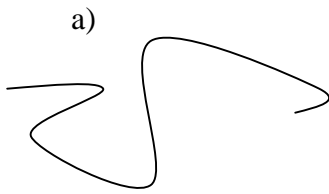
- 1) rzeczownik w liczbie mnogiej :
- 2) czasownik w czasie teraźniejszym :
- 3) przymiotnik rodzaju żeńskiego :
- 4) czasownik w 3 osobie :
- 5) przymiotnik w stopniu wyższym
- 6) liczebnik :
- 7) wyraz z dwuznakiem „sz”
- 8) wyraz pokrewny do wyrazu „klasa”
- 9) wyraz przeciwny do wyrazu „ciepło”
- 10) wyraz zdrobniały do wyrazu „pies”

Edukacja matematyczna

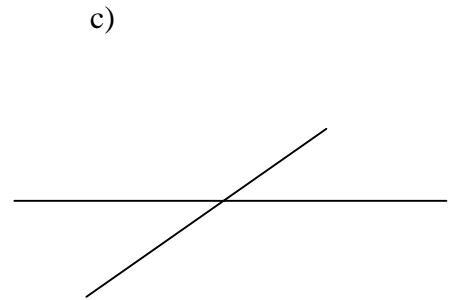

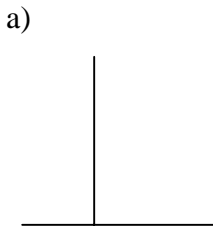
- 1) 7 setek , 5 dziesiątek , 3 jedności to liczba :
 - a) 357
 - b) 753
 - c) 735
- 2) Za pomocą których znaków rzymskich zapisana jest liczba 38 :
 - a) XXXVIII
 - b) XLVI
 - c) XXIV
- 3) Marcin ma 3 banknoty po 20 zł, a Rafał ma 20 monet po 5 zł.
Kto ma więcej pieniędzy:
 - a) Marcin
 - b) Rafał
 - c) mają po równo

- 4) Do sklepu przywieziono 235 jogurtów. Sprzedano 79 jogurtów. Ile jogurtów zostało?
a) 314
b) 144
c) 156
- 5) Suma liczb 1675 i 848 wynosi :
a) 1432
b) 2523
c) 827
- 6) Liczbą 7 razy mniejszą od 364 jest :
a) 52
b) 357
c) 371
- 7) Która grupa liczb jest wielokrotnością liczby 5 :
a) 2, 4, 6, 8, 10, 12
b) 3, 6, 9, 12, 15, 18
c) 5, 10, 15, 20, 25, 30
- 8) Zaznacz grupę liczb, które są dzielnikami liczby 28 :
a) 1, 2, 3, 5, 15, 30
b) 1, 2, 4, 7, 14, 28
c) 1, 2, 4, 8, 16, 32
- 9) Dzielną jest równa 45, a dzielnik 5. Ile wynosi iloraz :
a) 50
b) 40
c) 9
- 10) Liczba 4325 jest większa od liczby :
a) 4532
b) 4252
c) 5324
- 11) Z pola przywieziono 38 worków żyta i 7 razy więcej pszenicy.
Ile zboża przywieziono z pola :
a) 266
b) 304
c) 259
- 12) Dzień Matki obchodzony jest :
a) 26 I
b) 26 V
c) 26 X
- 13) 5 metrów to :
a) 50 cm
b) 500 cm
c) 5000 cm

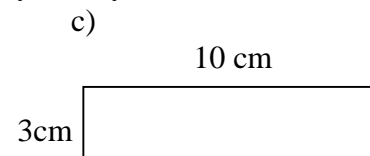
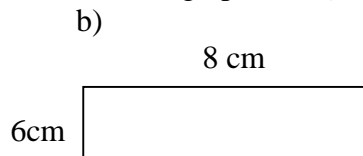
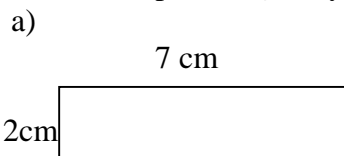
14) Który rysunek wskazuje łamaną :



15) Które linie są prostopadłe :



16) Obwód prostokąta wynosi 28 cm. Którego prostokąta dotyczy ten wymiar :



Edukacja społeczno-przyrodnicza

- 1) Pionowy znak drogowy w kształcie żółtego trójkąta z czerwoną obwódką i czarnym rysunkiem należy do grupy znaków :
 - a) ostrzegawczych
 - b) informacyjnych
 - c) zakazu
- 2) Niziny zaznaczone są na mapach fizycznych kolorem :
 - a) niebieskim
 - b) zielonym
 - c) czerwonym
- 3) Najwyższa warstwa roślinności leśnej to
 - a) drzewa
 - b) krzewy
 - c) runo leśne
- 4) W skład runa leśnego wchodzi :
 - a) sosny, brzozy, dęby
 - b) mchy, jagody, grzyby
 - c) jałowce, leszczyny

- 5) Zaznacz grupę drzew tylko liściastych :
- a) modrzew, świerk, jodła
 - b) klon, brzoza, dąb
 - c) sosna, grab, cis
- 6) Zwierzęta odżywiające się tylko roślinami to:
- a) roślinożercy
 - b) mięsożercy
 - c) wszystkożercy
- 7) Zaznacz grupę , z której można utworzyć łańcuch pokarmowy:
- a) kornik , dzięcioł , kora drzew
 - b) dzik, sarna , jeleń
 - c) trawa, zając, kukułka
- 8) Żyto, pszenica, jęczmień to rośliny :
- a) okopowe
 - b) zbożowe
 - c) oleiste
- 9) Z roślin oleistych otrzymujemy :
- a) mąkę
 - b) cukier
 - c) olej
- 10) Jadalną częścią roślin okopowych są :
- a) bulwy
 - b) liście
 - c) owoce
- 11) Do produkcji nici, tkanin, lin wykorzystywane są włókna roślin :
- a) oleistych
 - b) włóknistych
 - c) zbożowych
- 12) Woda jako płyn występuje w stanie :
- a) ciekłym
 - b) stałym
 - c) gazowym
- 13) Woda zamarza i tworzy lód w temperaturze :
- a) powyżej 0°C
 - b) 100°C
 - c) poniżej 0°C
- 14) Do wód stojących zaliczamy :
- a) rzeki
 - b) stawy
 - c) potoki

- 15) Do zwierząt morskich należą :
- a) flądra, dorsz
 - b) szczupak, płoć
 - c) okoń , rak
- 16) Zwierzęta, które nie są chronione w Polsce to :
- a) zając, mysz
 - b) kozica, żubr
 - c) nietoperz, ropucha
- 17) Zaznacz grupę roślin będących w Polsce pod ochroną :
- a) sosna, tulipan, aster
 - b) szarotka, cis, kosodrzewina
 - c) brzoza, róża, mak
- 18) Polska na zachodzie graniczy z :
- a) Czechami
 - b) Niemcami
 - c) Ukrainą
- 19) Sukiennice, Kościół Mariacki, Wawel to zabytki:
- a) Gdańska
 - b) Poznania
 - c) Krakowa
- 20) Najwyższe góry w Polsce to:
- a) Karkonosze
 - b) Tatry
 - c) Góry Świętokrzyskie