

TEST WIADOMOŚCI DLA I KLASY GIMNAZJUM Z ROZDZIAŁU „POGODA I KLIMAT”

GRUPA A

Przeczytaj uważnie wszystkie pytania i zaznacz jedną z trzech możliwych odpowiedzi przy każdym pytaniu.

Zadanie 1

Spośród poniższych zdań wybierz to, które opisuje pogodę:

- a) W górach występuje na ogół więcej deszczu niż na nizinach.
- b) Wczoraj było ciepło, więc poszliśmy na spacer.
- c) W strefie międzyzwrotnikowej występują pasaty.

Zadanie 2

Linie na mapie łączące punkty o tej samej sumie opadów atmosferycznych to:

- a) izotermy
- b) izohiety
- c) izobary

Zadanie 3

Największa suma opadów na Ziemi występuje:

- a) w klimacie zwrotnikowym
- b) w klimacie okołobiegunowym
- c) u podnóża Himalajów

Zadanie 4

Na stacji meteorologicznej zanotowano w poszczególnych miesiącach następujące sumy opadów:

Miesiąc	I	II	III	IV	V	VI	VII	VIII	IX	X	XI	XII
Opady w mm	50	150	125	100	75	105	350	355	200	150	155	100

Ile wynosi suma opadów w I półroczu (od I do VI)?

- a) 600 mm
- b) 605 mm
- c) 500 mm

Zadanie 5

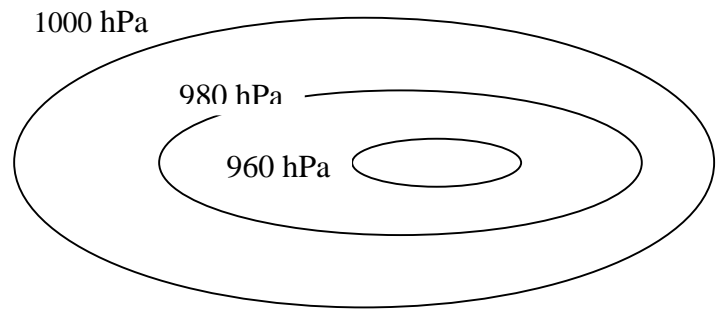
Monsun letni przynosi:

- a) opady śniegu
- b) opady deszczu
- c) suszę

Zadanie 6

Rysunek przedstawia:

- a) niż baryczny
- b) bryzę morską
- c) wyż baryczny



Zadanie 7

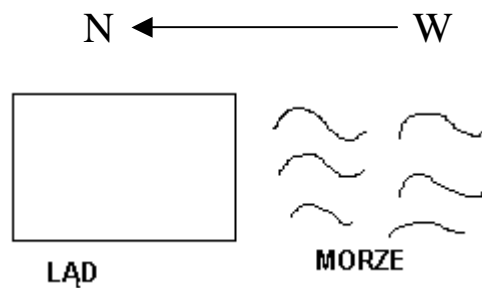
Pasat na półkuli północnej ma kierunek:

- a) NE
- b) NW
- c) SE

Zadanie 8

Poniższy rysunek przedstawia:

- a) monsun letni
- b) monsun zimowy
- c) pasat



Zadanie 9

Na stacji meteorologicznej zanotowano następujące temperatury w ciągu doby: -4°C , 1°C , 0°C , -5°C . Ile wynosi średnia dobową temperatura powietrza?

- a) -2°C
- b) 2°C
- c) 4°C

Zadanie 10

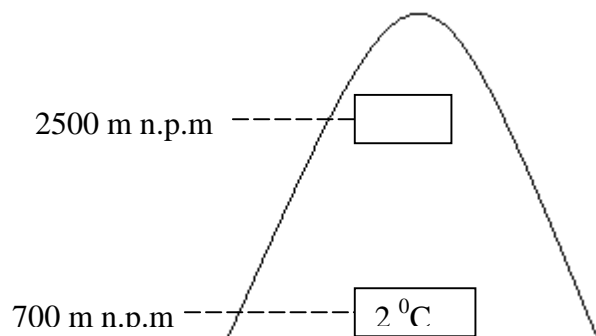
Na podstawie treści zadania 9 oblicz ile wynosi amplituda dobową temperatur powietrza:

- a) 6°C
- b) -6°C
- c) 1°C

Zadanie 11

Jaka temperatura jest na podanej wysokości?

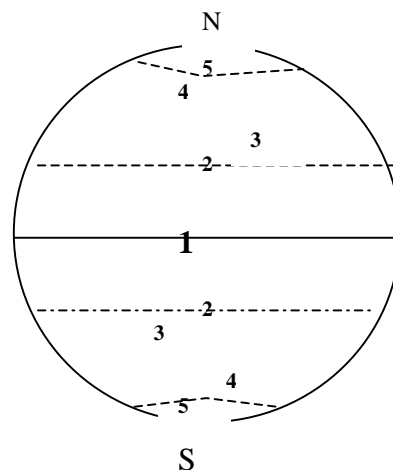
- a) -7°C
- b) 11°C
- c) -11°C



Zadanie 12

Jaką strefę klimatyczną oznaczono cyfrą 3?

- a) umiarkowaną
- b) podzwrotnikową
- c) zwrotnikową



Zadanie 13

Jaki klimat charakteryzują poniższe zwooty?

duże zachmurzenie, łagodne zimy i ciepłe lata, małe amplitudy temperatury powietrza

- a) klimat lądowy
- b) klimat monsunowy
- c) klimat morski

TEST WIADOMOŚCI DLA I KLASY GIMNAZJUM Z ROZDZIAŁU
„POGODA I KLIMAT”

GRUPA B

Przeczytaj uważnie wszystkie pytania i zaznacz jedną z trzech możliwych odpowiedzi przy każdym pytaniu.

Zadanie 1

Spośród poniższych zdań wybierz to, które opisuje klimat:

- a) Jesienią zdarzają się dni zwane „babim latem”.
- b) W wiadomościach zapowiadali na jutro deszcz.
- c) Dzisiaj było słonecznie i wiał południowy wiatr.

Zadanie 2

Linie na mapie łączące punkty o tej samej wartości ciśnienia atmosferycznego to:

- a) izohiety
- b) izotermy
- c) izobary

Zadanie 3

Najniższe sumy opadów występują:

- a) na Nizinie Amazonki
- b) w klimacie zwrotnikowym
- c) w górach

Zadanie 4

Na stacji meteorologicznej zanotowano w poszczególnych miesiącach następujące sumy opadów:

Miesiąc	I	II	III	IV	V	VI	VII	VIII	IX	X	XI	XII
Opady w mm	50	150	125	100	75	105	350	355	200	150	155	100

Ile wynosi suma opadów w II półroczu (od VII do XII)?

- 1310 mm
- 1300 mm
- 1000 mm

Zadanie 5

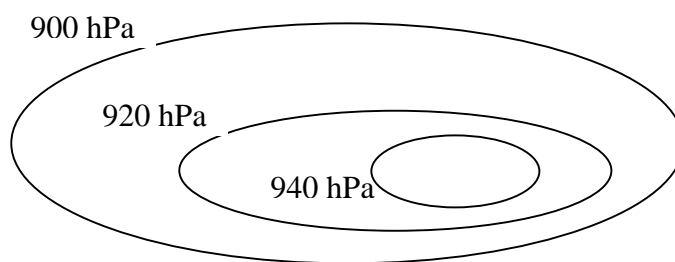
Monsun zimowy przynosi:

- opady deszczu
- suszę
- opady śniegu

Zadanie 6

Rysunek przedstawia:

- wyż baryczny
- monsun
- niż baryczny



Zadanie 7

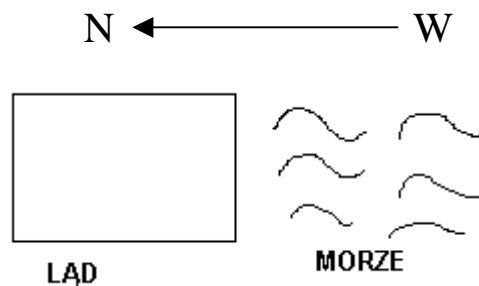
Pasat na półkuli południowej ma kierunek:

- SW
- SE
- NE

Zadanie 8

Poniższy rysunek przedstawia:

- bryzę dzienną
- bryzę nocną
- pasat



Zadanie 9

Na stacji meteorologicznej zanotowano następujące temperatury w ciągu doby: -8°C , 0°C , 2°C , -2°C . Ile wynosi średnia dobową temperatura powietrza?

- 1°C
- -4°C
- -2°C

Zadanie 10

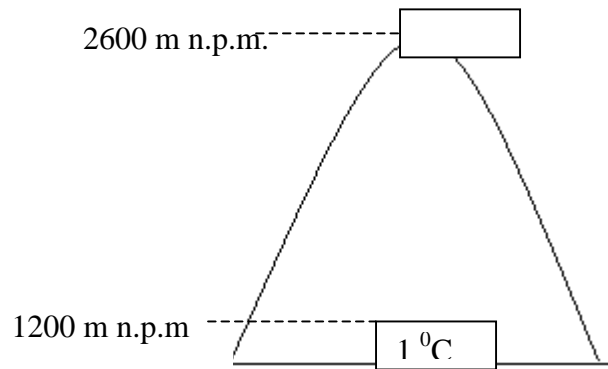
Na podstawie treści zadania 9 oblicz ile wynosi amplituda dobową temperatur powietrza:

- -10°C
- 10°C
- 8°C

Zadanie 11

Jaka temperatura jest na podanej wysokości?

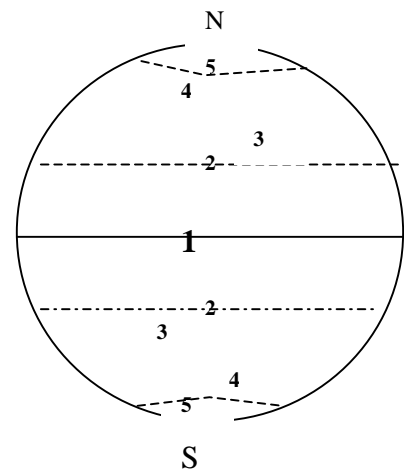
- a) 7 °C
- b) -8 °C
- c) -6 °C



Zadanie 12

Jaką strefę klimatyczną oznaczono cyfrą 4?

- d) podzwrotnikową
- e) zwrotnikową
- f) umiarkowaną



Zadanie 13

Jaki klimat charakteryzują poniższe zwoły?

mała wilgotność powietrza, lata gorące i suche, duże amplitudy temperatury powietrza

- d) klimat monsunowy
- e) klimat morski
- f) klimat lądowy

**KLUCZ ODPOWIEDZI DO TESTU Z GEOGRAFII
W I KLASIE GIMNAZJUM
Z ROZDZIAŁU „POGODA I KLIMAT”**

GRUPA A

Numer zadania	1	2	3	4	5	6	7	8	9	10	11	12	13
Poprawna odpowiedź	b	b	c	b	b	a	a	a	a	a	a	b	c

GRUPA B

Numer zadania	1	2	3	4	5	6	7	8	9	10	11	12	13
Poprawna odpowiedź	a	c	b	a	b	a	b	a	c	b	c	c	c