




**ZADANIE 3**

Wykonaj obliczenia.


$$(340 : 5 - 7 \cdot 8) \cdot 147 =$$



**ZADANIE 4**

Rozwiąż równanie.

$$961 - x = 178$$



**ZADANIE 5**

Liczby zapisano według pewnych reguł. Odkryj je i napisz jeszcze kilka następnych liczb.

$$128, 64, 32, \dots$$

$$1, 4, 16, 64, \dots$$

## ZADANIE 6

Rok szkolny kończy się 28 czerwca, a nowy rok szkolny zaczyna się 1 września. Ile dni trwają wakacje?

Rozwiązanie: .....

.....

.....

Odp. : .....

## ZADANIE 7

Jakie to liczby? Odczytaj je i zapisz cyframi arabskimi.

CV

CM

LX


XLI

DVI

CCL

## ZADANIE 8

Narysuj prostokąt, którego obwód jest równy obwodowi kwadratu o boku 5 cm



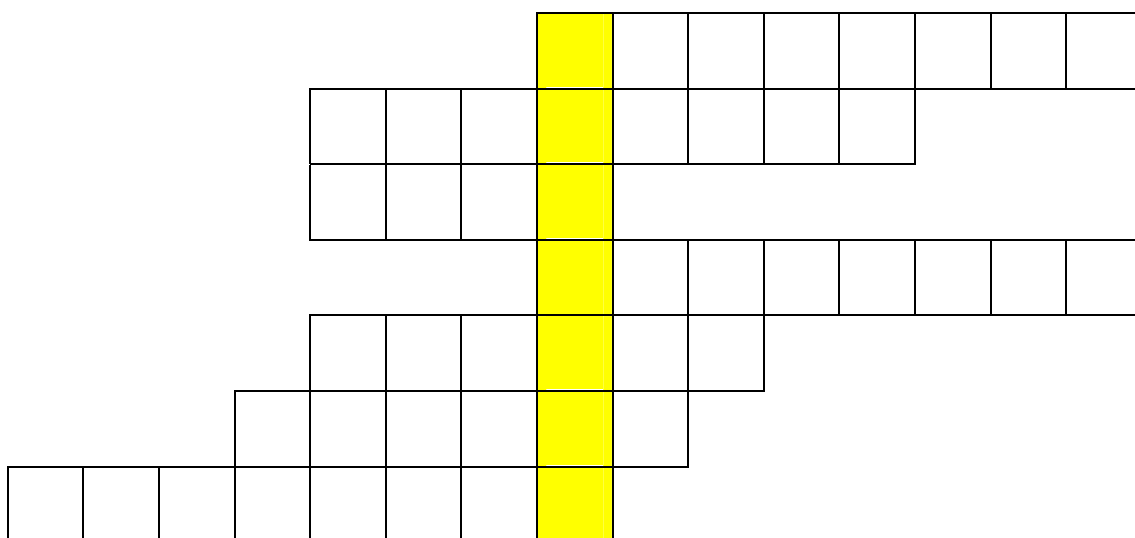



## ZADANIE 12

Wpisz nazwy miesięcy.

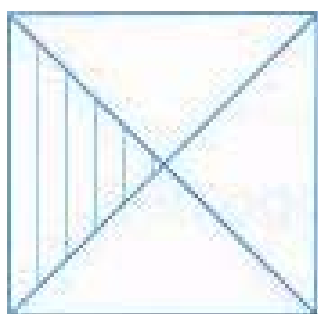
### POZIOMO:

1. VIII
2. XI
3. II
4. VI
5. III
6. VII
7. IV

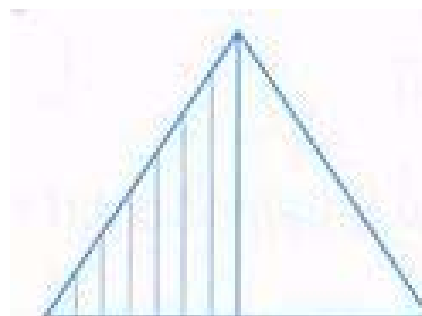


## ZADANIE 13

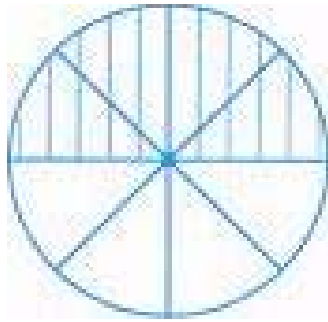
Jaką część figury zamalowano?



\_\_\_\_\_



\_\_\_\_\_



### ZADANIE 14

Na tropie liczb.

1. Liczba mniejsza od 930, większa od 899, dzieli się bez reszty przez 30.

2. Suma iloczynu i ilorazu liczb 10 przez 5.

3. Suma trzech liczb wynosi 165. Druga liczba jest 2 razy większa od pierwszej, a trzecia jest 4 razy większa od drugiej. Jakie to liczby?

### ZADANIE 15

Rozwiąż równania:

$$X + 374 = 1371$$

$$8634 - x = 7323$$

$$x \cdot 9 = 999$$

---

---

---

---

---

### ZADANIE 16

$$2 \text{ kg} = \dots\dots \text{ dag}$$

$$3 \text{ godz.} = \dots\dots \text{ min}$$

$$1 \text{ m} = \dots\dots \text{ cm}$$

$$1 \text{ l} = \dots\dots \text{ ml}$$

$$4 \text{ min} = \dots\dots \text{ sek.}$$

$$10 \text{ zł} = \dots\dots \text{ gr}$$

$$5 \text{ t} = \dots\dots \text{ kg}$$

$$100 \text{ km} = \dots\dots \text{ m}$$

$$1 \text{ q} = \dots\dots \text{ kg}$$

### ZADANIE 17

Oblicz sposobem pisemnym.

$$\overline{67258 : 4}$$

$$\overline{6699 : 3}$$

$$\overline{7431 : 7}$$

$$\overline{10936 : 5}$$

1721	92563		
489	625		
490	7890	9387	7658
+ 203	+ 207	- 2496	- 4789

6258	5460	1723	1298
. 2	. 4	. 5	. 12

### ZADANIE 18

Pokoloruj na zielono linie prostopadłe, a na niebiesko linie równoległe.



**Obwód=**

### ZADANIE 19

Rozwiąż zadanie.

Dwa tygodnie wakacji Ania spędzi z rodzicami nad morzem. Tata ma 4251 zł oszczędności, mama trzy razy mniej niż tata. Ania ma o 485 zł mniej niż mama. Ile pieniędzy zaoszczędziła rodzina Ani?

---



---



---



---



---

*Myślę, że teraz już wiecie- to są zadania dla mądrych dzieci,  
Więc nadal pracuj wytrwale, byś mógł powiedzieć- liczę wspaniale!*